


# Worksheet: Dizendo o Tempo em Intervalos de 5 Minutos



Nesta atividade, nós vamos praticar a ler a hora em um relógio analógico e anotar para os 5 minutos mais próximos em formato escrito e digital.

**Q1:**


Conta de 5 em 5 para determinar quantos minutos passaram desde as 2h.




Q2:

Quando é 2:50, como está o relógio?

A




B



**Q3:**

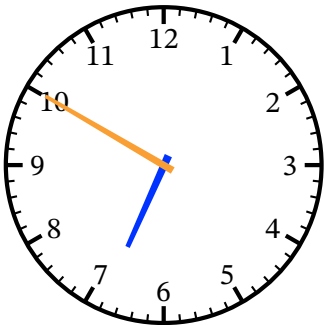
Esta é a hora agora. Que horas serão em 5 minutos?



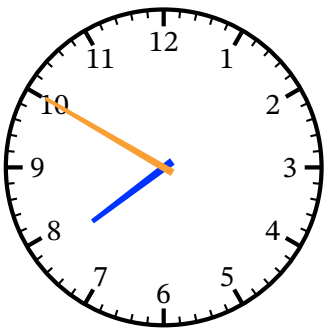
**Q4:**

Qual relógio mostra que são dez para as sete?

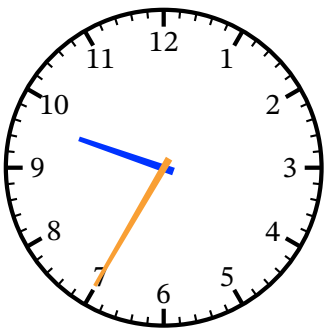
A



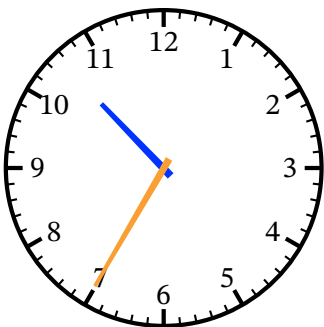
B



C



D



**Q5:**

O Tomás pretende encontrar-se com o seu amigo no parque às 4 em ponto. Ele demora 15 min para chegar até lá. A que horas precisa de sair da sua casa?

**Q6:**

Há 10 min atrás a mãe do Tiago disse "O jantar estará pronto daqui a 25 min." Se são 6h05 agora, a que horas estará o jantar do Tiago pronto?

**Q7:**

Que horas são?


Encontre os números que estão faltando.



São \_\_\_ minutos depois das \_\_\_.

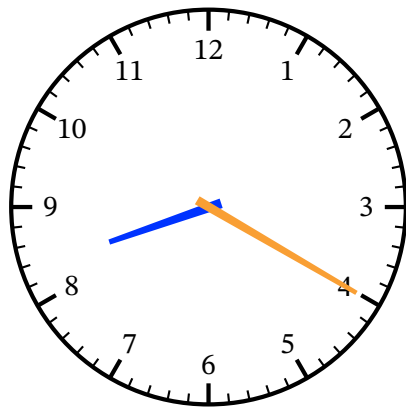
**Q8:**

Ricardo olha para o relógio e vê isso. É antes ou depois das 4 horas?



Q9:

Qual dos relógios digitais mostra as mesmas horas que o analógico?



A

8:20

B

8:40

C

4:40

D

4:08

6

E

**Q10:**

Qual dos relógios mostra as nove e vinte?

A



B



C



D




E



**Q11:**

A amiga da Mariana telefonou-lhe a dizer que chegaria às 5h45 da tarde. A Mariana olha para o relógio e vê:



Quanto tempo terá que esperar pela sua amiga?