

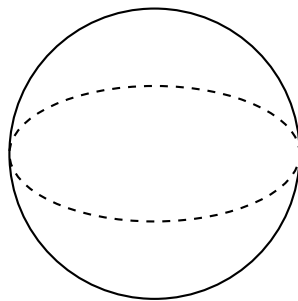
Worksheet: As Diferentes Visões das Figuras Tridimensionais



Nesta atividade, nós vamos praticar a encontrar as vistas frontal, superior e lateral de uma figura tridimensional e identifique essas vistas para alguns polígonos.

Q1:

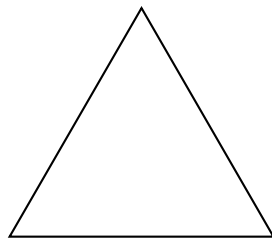
Qual das seguintes formas bidimensionais poderia ser criada cortando a esfera como na figura dada?



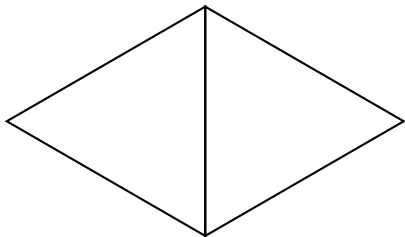
- A um círculo
- B um triângulo
- C um triângulo esférico
- D um retângulo
- E uma elipse

Q2:

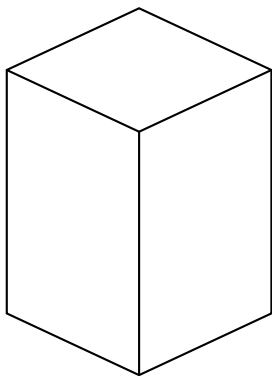
Qual dos seguintes sólidos poderia ser cortado verticalmente, na orientação mostrada, para produzir a seção transversal bidimensional vista na figura dada?



A



B



C

