

# Worksheet: Padrões de Formas



Nesta atividade, nós vamos praticar a reconhecer padrões repetitivos de formas que tenham uma parte repetitiva contendo no máximo 5 algarismos.

**Q1:**

A Beatriz fez um padrão que se repete com formas geométricas. Qual é a parte que se repete?



**Q2:**

Observa o padrão



Quem está correto?

A



A parte que se repete é



B

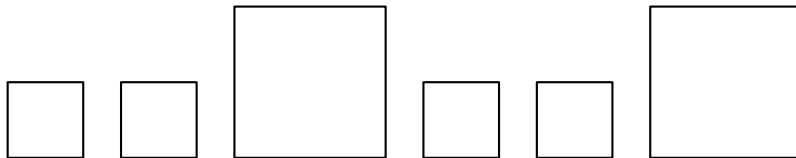


A parte que se repete é



**Q3:**

Quais são as próximas três formas?

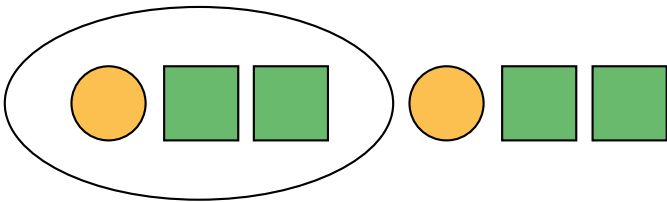


**Q4:**

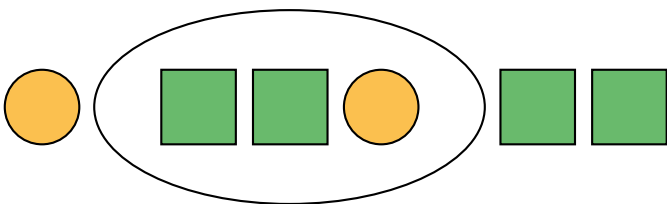
Dois estudantes foram convidados a circular a parte repetitiva de um padrão.

Qual resposta está correta?

A



B



**Q5:**

Selecione um padrão com esta parte que se repete.



A



B

