

Worksheet: Adição até 100 Utilizando Compensações



Nesta atividade, nós vamos praticar a utilizar compensações para adicionar dois números até 100.

Q1:

Preenche o espaço em branco: $11 + 3 = _ + 8$.

Q2: Podemos determinar somas mais fáceis para nos ajudar a adicionar.



Determina o número em falta.

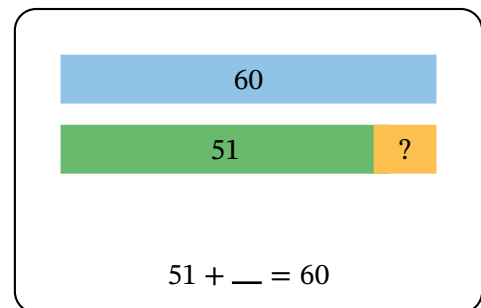
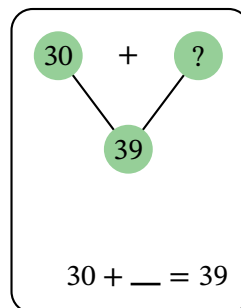
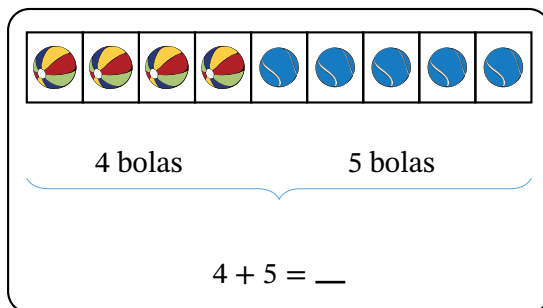
$$54 + 18 = \boxed{?} + 20$$

Diagram illustrating compensation: a green arrow labeled -2 points from 18 to 20, and another green arrow labeled $+2$ points from 54 to 56.



Quanto é $54 + 18$?

Q3: 3 alunos estão praticando desenhar modelos para resolver problemas.



Francisco diz: "o mesmo número faz todas as nossas somas corretas".

Isso é verdadeiro ou falso?



Qual número faz as somas corretas?