

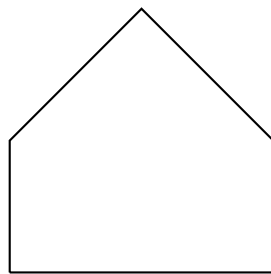
Worksheet: Décomposer des figures planes



Dans cette feuille d'activités, nous nous entraînerons à Identifier ou compter toutes les figures planes utilisées pour créer un modèle donné et déterminer d'autres modèles pouvant être réalisés avec le même ensemble de figures.

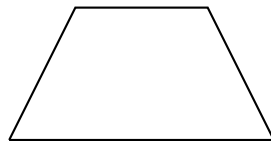
Q1:

Quel ensemble de formes permet de créer la figure suivante?



Q2:

Quel ensemble de formes permet de créer la figure suivante?



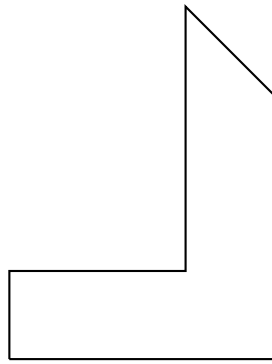
A , ,

B , ,

C , ,

Q3:

Quel est le groupe de figures à partir duquel on peut former cette image?



A □, □, △

B □, △, □

C □, △, □