

Worksheet: Identifier et compléter les motifs visuels



Dans cette feuille d'activités, nous nous entraînerons à identifier visuellement un motif géométrique et le compléter.

Q1:

Complète la suite logique:

□□○, □□○○, □□○○○, —

Q2:

Qu'est-ce qui suit?

⊙, ⊕, ⊗, ⊙, ...

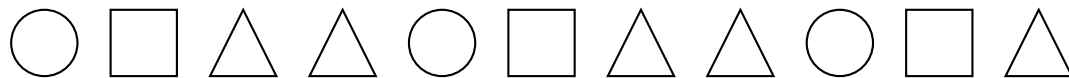
Q3:

Quelle est la figure qui complète la suite logique?



Q4:

Quelle figure complète la suite?



Q5:

Le motif $\square \circ \triangle \square \circ \triangle \square \circ \triangle$ est une répétition de —

- A $\square \circ \triangle$
- B $\triangle \circ \square$
- C $\triangle \circ$
- D $\circ \triangle$

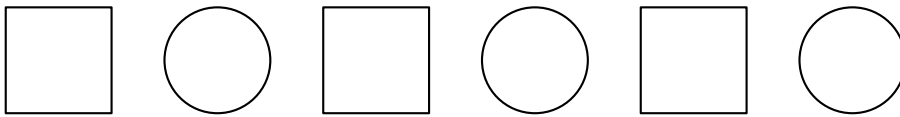
Q6:

Qu'est-ce qui suit?

$\diamond, \heartsuit, \clubsuit, \diamond, \dots$

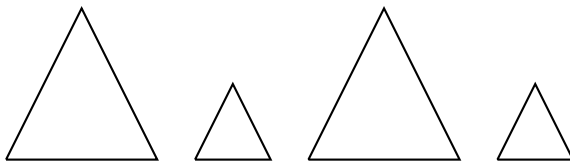
Q7:

Quelles sont les deux figures qui suivent?



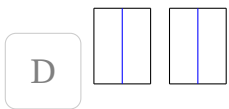
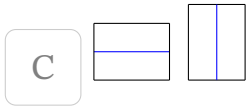
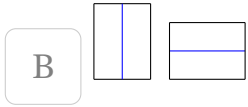
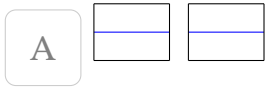
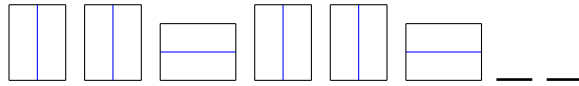
Q8:

Quelles sont les deux figures suivantes?



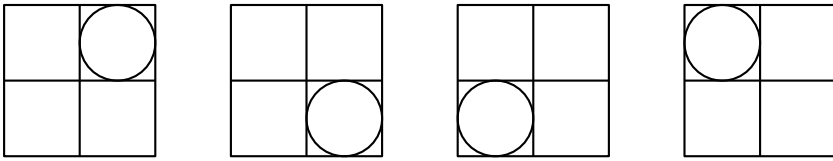
Q9:

Complète la suite logique:



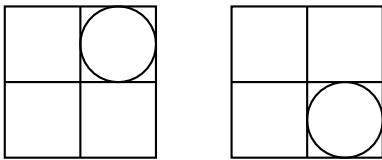
Q10:

Choisis l'image qui complète le motif.

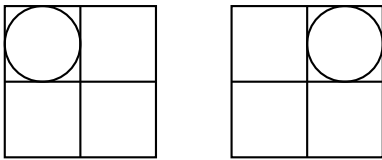


— —

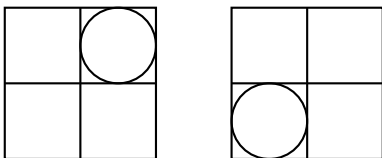
A



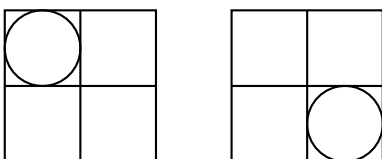
B



C



D



Q11:

En considérant une suite pour le nombre de cordes dans chaque cercle, détermine le nombre de cordes dans le 5e cercle.

