

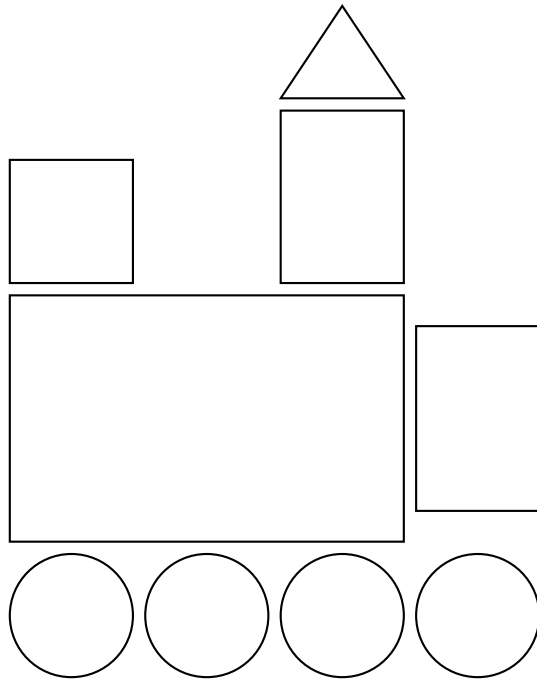
# Worksheet: Identificar cuadrados y rectángulos



En esta hoja de actividades, vamos a practicar cómo identificar cuadrados y rectángulos sin importar su orientación, tamaño o color.

**Q1:**


¿Cuántos cuadrados hay en este dibujo?




**Q2:**

¿Cuál de las siguientes figuras es un cuadrado?


A



B

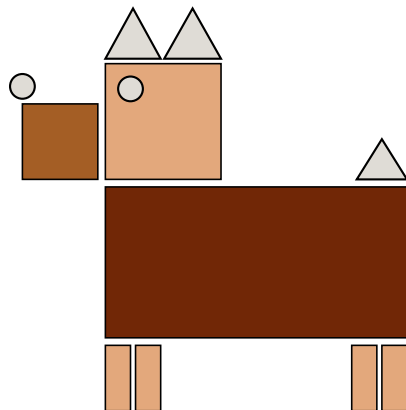


C




**Q3:**

¿Cuántos cuadrados hay en el dibujo?



**Q4:**


Si giramos este cuadrado de tal manera que este parado sobre su esquina, ¿sigue siendo un cuadrado?




**Q5:**

Escoge el cuadrado azul.


A



B

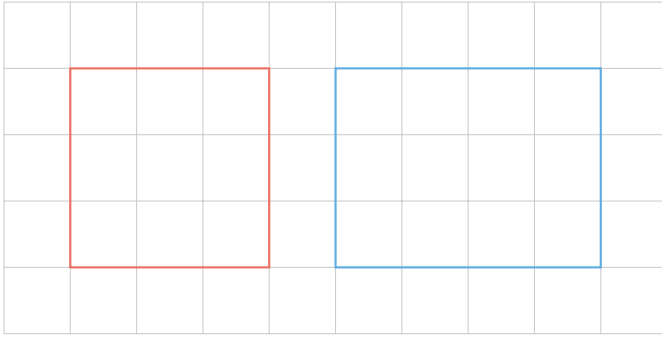


C




**Q6:**

La figura roja es un \_\_\_.



**Q7:**

¿Cómo se llama esta figura geométrica?



**Q8:**


De las siguientes figuras geométricas, ¿cuáles son cuadrados?



(i)



(ii)



(iii)



(iv)

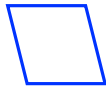
- A las figuras (ii) y (iv)
- B las figuras (i), (iii) y (iv)
- C solo la figura (iv)
- D las figuras (iii) y (iv)
- E las figuras (i) y (ii)

**Q9:**


De las figuras geométricas siguientes, ¿cuáles son cuadrados?



(i)



(ii)



(iii)



(iv)

A las figuras (i) y (ii)

B las figuras (i), (iii) y (iv)

C las figuras (i), (ii) y (iv)

D las figuras (ii), (iii) y (iv)

E solo la figura (i)

**Q10:**

Dos de estas figuras geométricas son cuadrados. ¿Cuáles?



(i)



(ii)




(iii)



(iv)

**Q11:**

¿Cuántos □ hay en el dibujo?



**Q12:**

¿Cuál de estas figuras es un cuadrado?

