

Worksheet: Decir la hora y entender el significado de AM y PM




En esta hoja de actividades, vamos a practicar cómo decir la hora y el significado de "am" y de "pm".

Q1:

Noelia se come un refrigerio a las 7:35 am y juega tenis a las 7:35 pm. ¿Qué hace primero, jugar tenis o comer un refrigerio?

Q2:


Cuando Joaquín salió de compras por la tarde, el reloj se veía así:



¿A qué hora salió Joaquín de compras?

Q3:

Cuando Joaquín salió a caminar, el sol estaba saliendo y el reloj se veía así:



¿A qué hora salió Joaquín a caminar?

- A 7:50 de la tarde
- B 6:50 de la mañana
- C 10:35 de la mañana
- D 7:50 de la mañana
- E 6:50 de la tarde

Q4:

¿Te vas a dormir cuando el reloj indica am o pm?

Q5:

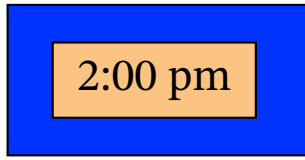
¿Desayunas cuando el reloj indica am o pm?



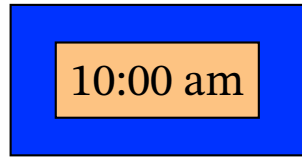
Question Video

Q6:

Los relojes muestran la hora en la que la clase de física y matemáticas de Enrique comienzan.



Física



Matemáticas

¿Qué clase hay en la tarde?