



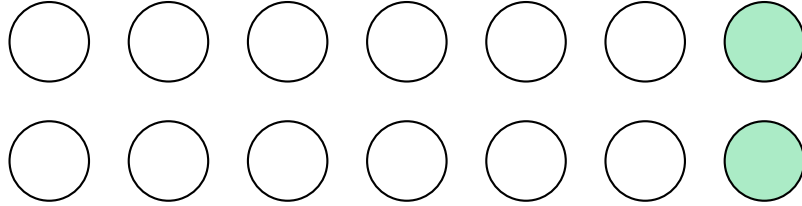
ملف تدريبي: كسور مجموعة

في هذا الملف التدريبي، سوف نتدرَّب على كتابة وقراءة الكسور باستخدام مجموعة من العناصر.



oediV noitseuQ

س١: ما الكسر الذي يُمثِّل الدوائر المظللة؟

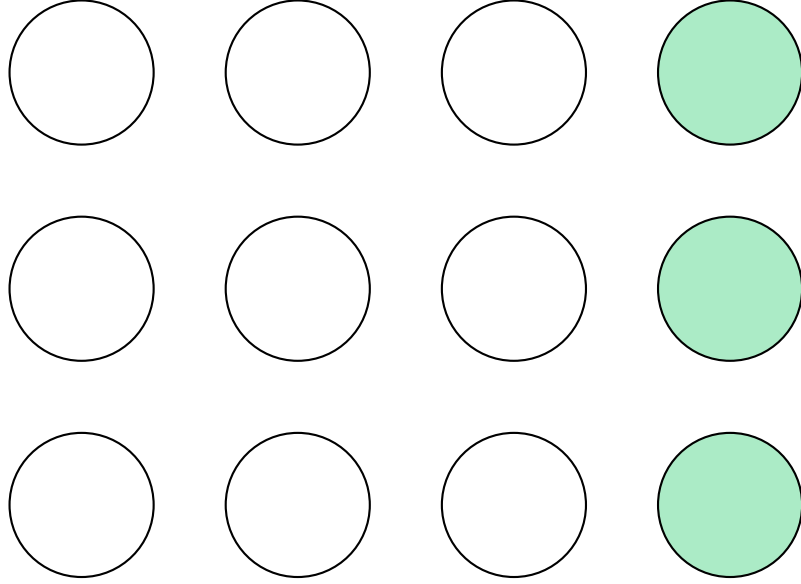


- أ $\frac{1}{8}$
- ب $\frac{1}{7}$
- ج $\frac{1}{6}$
- د ١



oediV noitseuQ

س٢: ما الكسر الذي يُمثّل الدوائر المظللة؟

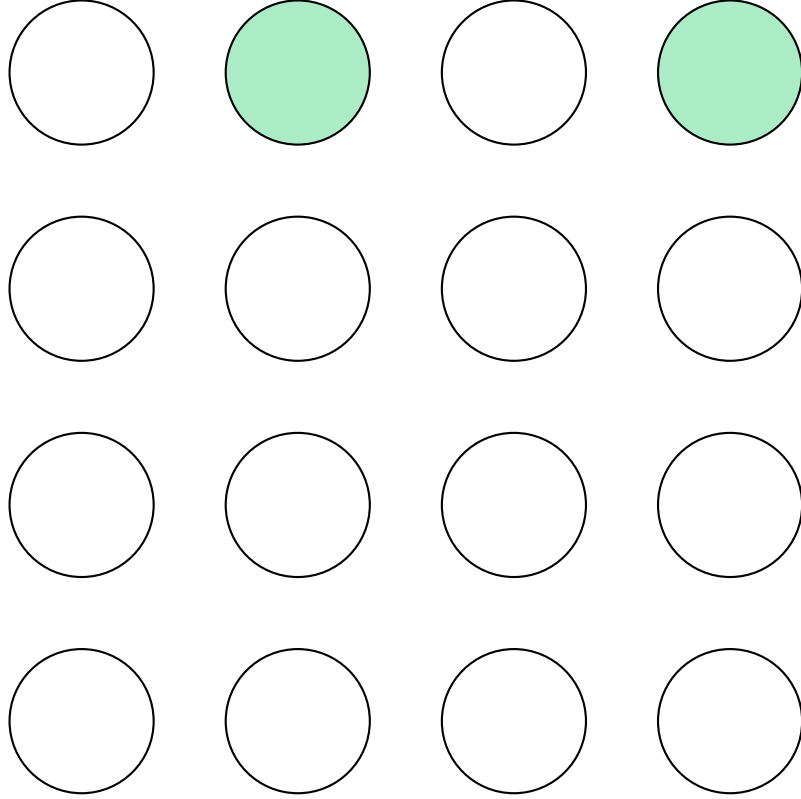


- أ $\frac{1}{5}$
- ب $\frac{1}{4}$
- ج $\frac{1}{3}$
- د ١



oediV noitseuQ

س٣: ما الكسر الذي يُمثّل الدوائر المظللة؟

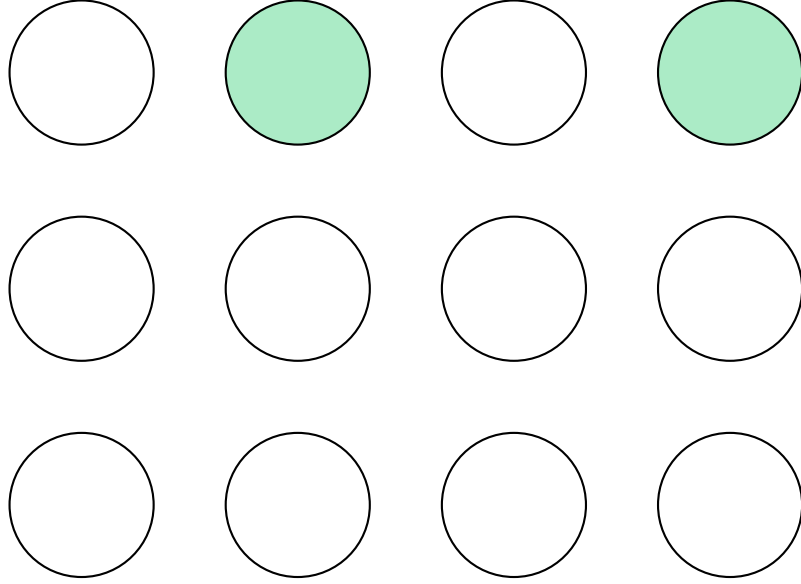


- أ $\frac{1}{9}$
- ب $\frac{1}{8}$
- ج $\frac{1}{7}$
- د ١



oediV noitseuQ

س٤: ما الكسر الذي يُمَثَّل الدوائر المظللة؟

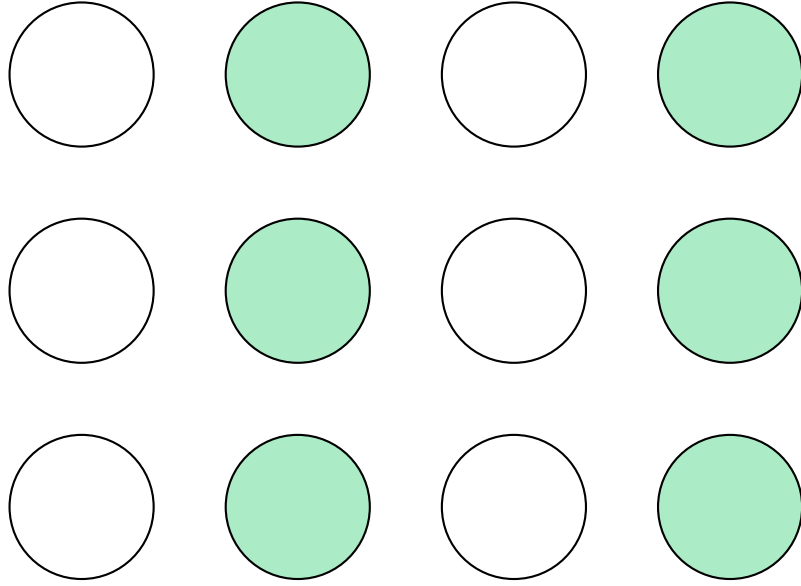


- أ $\frac{1}{7}$
- ب $\frac{1}{6}$
- ج $\frac{1}{5}$
- د ١



oediV noitseuQ

س٥: ما الكسر الذي يُمَثَّل الدوائر المظللة؟



- أ $\frac{1}{4}$
- ب $\frac{1}{2}$
- ج $\frac{1}{3}$
- د ١