



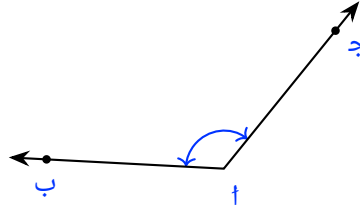
ملف تدريبي: تقدير قياس الزاوية

في هذا الملف التدريبي، سوف نتدرَّب على تقدير قياس الزوايا عن طريق مقارنتها بزاوية أخرى قياسها معلوم.



oediV noitseuQ

س١: أيُّ من التالي أقرب في القياس إلى الزاوية بـأج؟



أ ٢٢٨°

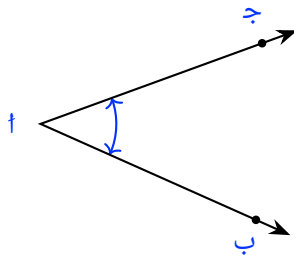
ب ١٢٦°

ج ٧٤°



oediV noitseuQ

س٢: أيُّ من التالي أقرب في القياس إلى الزاوية بـأج؟



أ ٢٢٤°

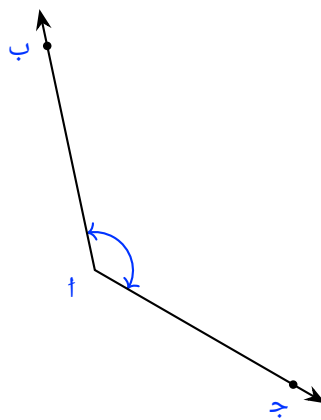
ب ٤٤°

ج ١٣٢°



oediV noitseuQ

س٣: أيُّ من التالي أقرب في القياس إلى الزاوية بـأج؟



أ ٢٣٢°

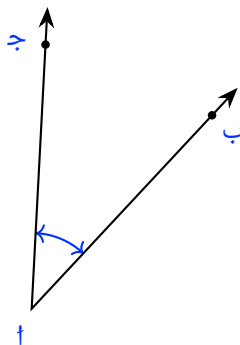
ب ١٣٢°

ج ٥٢°



oediV noitseuQ

س٤: أيُّ من التالي أقرب في القياس إلى الزاوية بـأج؟

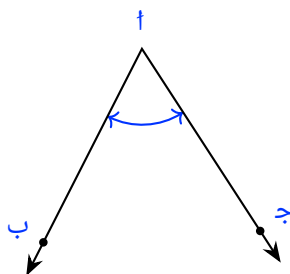


- أ ٢٢٠
ب ٤٠
ج ١٤٨



oediV noitseuQ

س٥: أيُّ من التالي أقرب في القياس إلى الزاوية بـأج؟

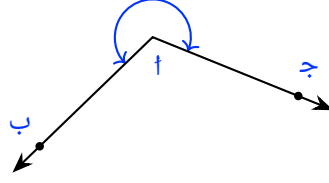


- أ ٢٤٠
ب ٦٠
ج ١٢٢



oediV noitseuQ

س٦: أيُّ من التالي أقرب في القياس إلى الزاوية بـأج؟

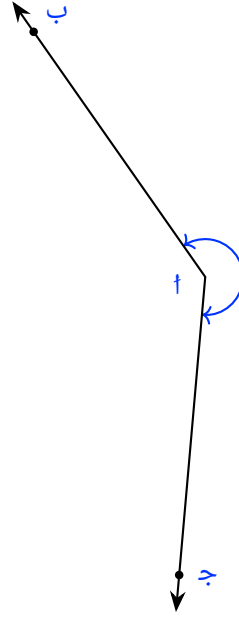


- أ ٦٦°
- ب ٦٣٨°
- ج ٣١٤°



oediV noitseuQ

س٧: أيُّ من التالي أقرب في القياس إلى الزاوية بـأج؟



أ ٤٠°

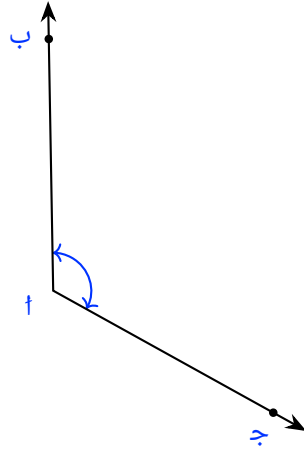
ب ٢٢°

ج ٧٤٨°



oediV noitseuQ

س٨: أي من التالي أقرب في القياس إلى الزاوية بـأج؟

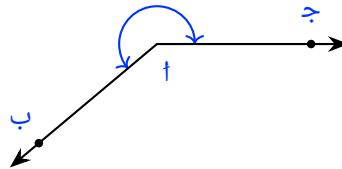


- أ ٢٤٠
- ب ١٢٠
- ج ٦٠



oediV noitseuQ

س٩: أي من التالي أقرب في القياس إلى الزاوية بـأج؟

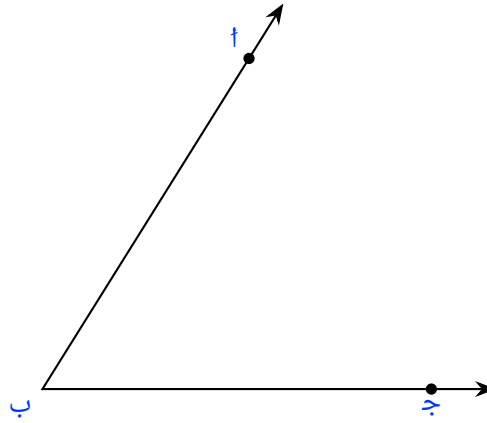


- أ ٤٠
- ب ٢٢٠
- ج ١٣٢



oediV noitseuQ

س١: اختر قياس الزاوية الأقرب لـ ١٠٠° ج.

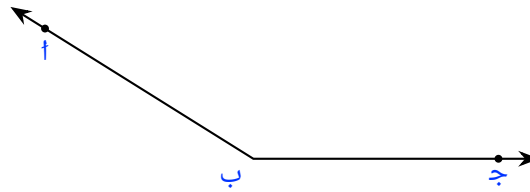


- أ ٩٠°
- ب ٥٨°
- ج ١٢٠°



oediV noitseuQ

س١١: اختر قياس الزاوية الأقرب لـ ١٠٠° ج.

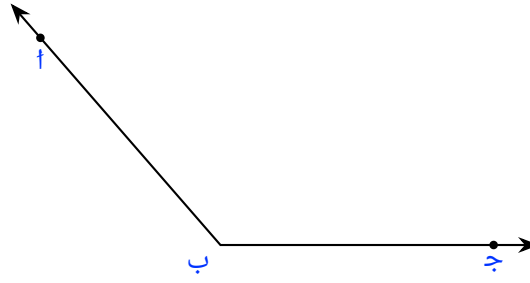


- أ ٩٠°
- ب ١٤٨°
- ج ٤٥°



oediV noitseuQ

س٢١: اختر قياس الزاوية الأقرب لـ α ج.

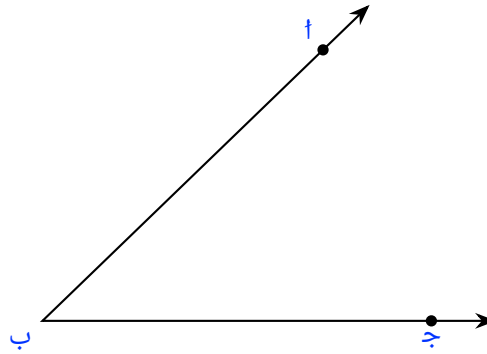


- أ 90°
- ب 131°
- ج 50°



oediV noitseuQ

س٣١: اختر قياس الزاوية الأقرب لـ α ج.

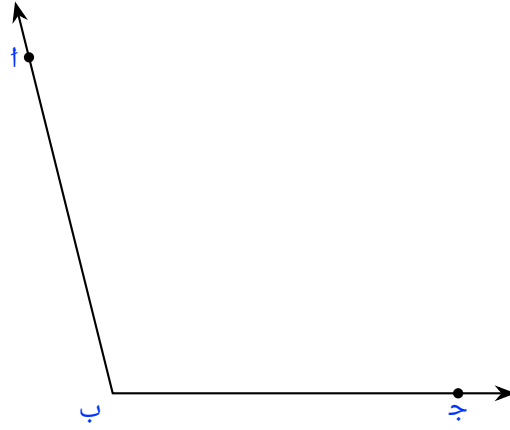


- أ 90°
- ب 34°
- ج 150°



oediV noitseuQ

س٤١: اختر قياس الزاوية الأقرب لـ α ج.

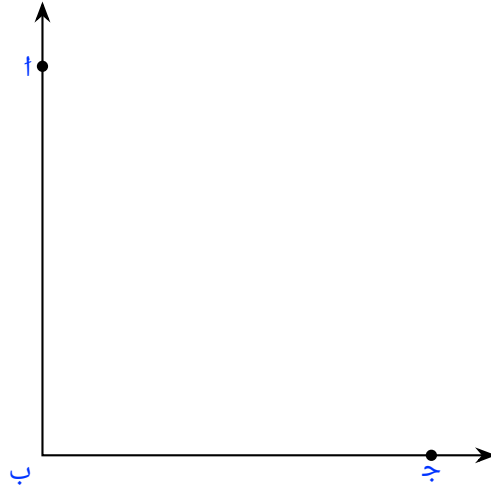


- أ 90°
- ب 31°
- ج 50°



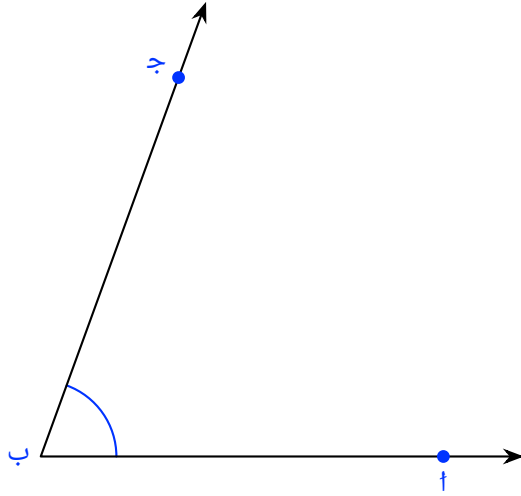
oediV noitseuQ

س٥١: اختر قياس الزاوية الأقرب لوحد أب ج.



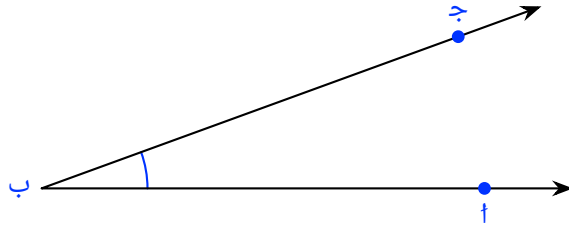
- أ ١٥٠°
- ب ٩٠°
- ج ٤٥°

س٦١: اختر أفضل تقدير لقياس الزاوية.



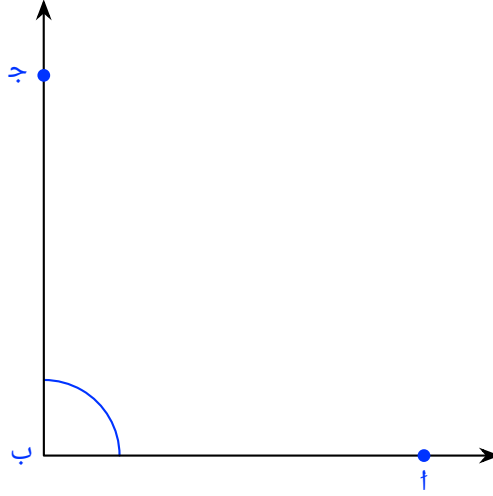
- أ ٠.٢١
- ب ٠.٩
- ج ٥١
- د ٠.٧
- ه ٠.٥١

س٧١: اختر أفضل تقدير لقياس هذه الزاوية.



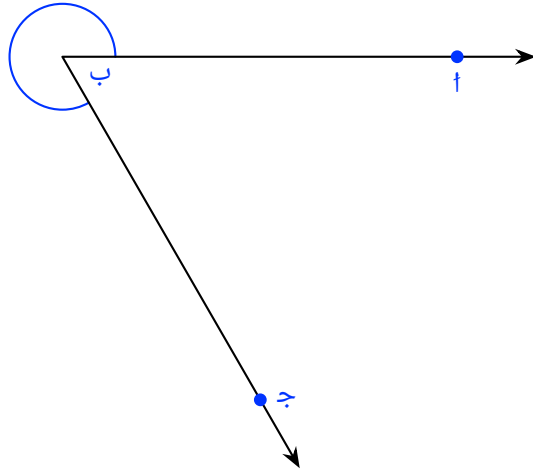
- أ ٠.٥١
- ب ٠.٢١
- ج ٠.٢
- د ٠.٩
- ه ٠.٧

س٨١: قَدِّر قياس هذه الزاوية.



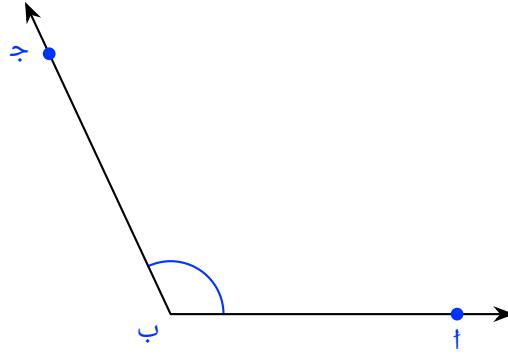
- أ ٠.٢١
- ب ٠.٥١
- ج ٠.٩
- د ٠.٧
- ه ٠.٥٢

س٩١: اختر أفضل تقدير لقياس هذه الزاوية.



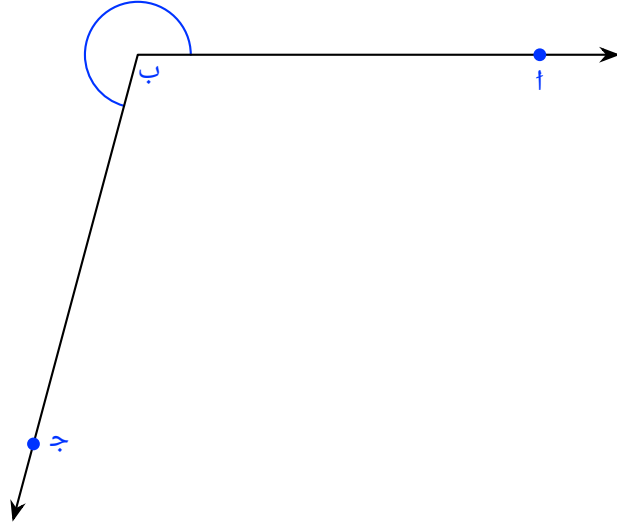
- أ ٤٣°
- ب ٥٢°
- ج ٣°
- د ٥١°
- ه ٥٩١°

س٢٠: اختر أفضل تقدير لقياس الزاوية.



- أ ٥١١°
- ب ٠.٥°
- ج ٠.٧°
- د ٠.٩°
- هـ ٠.٧١°

س١٢: اختر أفضل تقدير لقياس الزاوية الموضحة.



أ ٣٠٠°

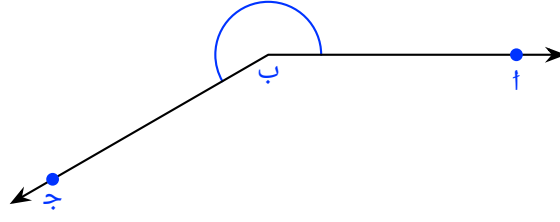
ب ٥٥٢°

ج ١٦٥°

د ١١٠°

ه ٥١٠°

س٢٢: اختر أفضل تقدير لقياس هذه الزاوية.



أ ٠.١٢

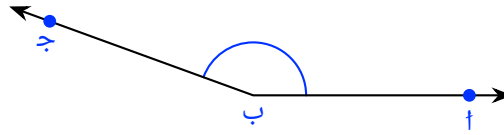
ب ٠.٠٨

ج ٠.٥١

د ٠.١١

هـ ٠.٦٢

س٣٢: اختر أفضل تقدير لقياس الزاوية الموضحة.



أ ٠.٩

ب ٠.٠٨

ج ٠.١١

د ٠.٠٤

هـ ٠.٦١