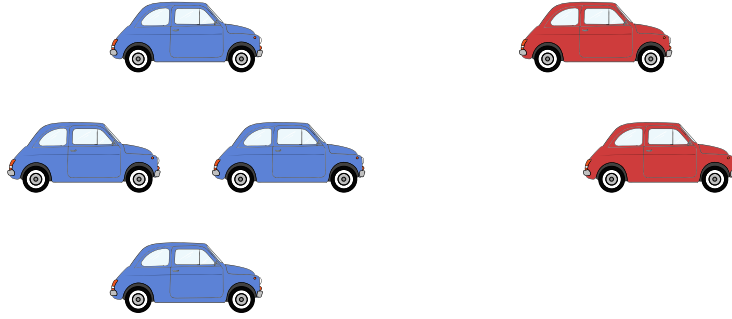




# ملف تدريبي: الجمع حتى ١٠ من خلال الصور


في هذا الملف التدريبي، سوف نتدرَّب على إيجاد إجمالي عدد العناصر المُرتَّبة في مجموعتين بالعدِّ حتى ١٠.

س١: ما العدد الكلي للسيارات التي في الشكل؟



- أ ٥  
ب ٧  
ج ٦


س٢: هنا ٤ أرانب.



oediV noitseuQ

أضف ٢. ما الصورة التي توضّح ذلك؟


أ



ب



ج



◀ ما ناتج ٤ زائد ٢؟ ما العدد الإجمالي؟

أ ٦

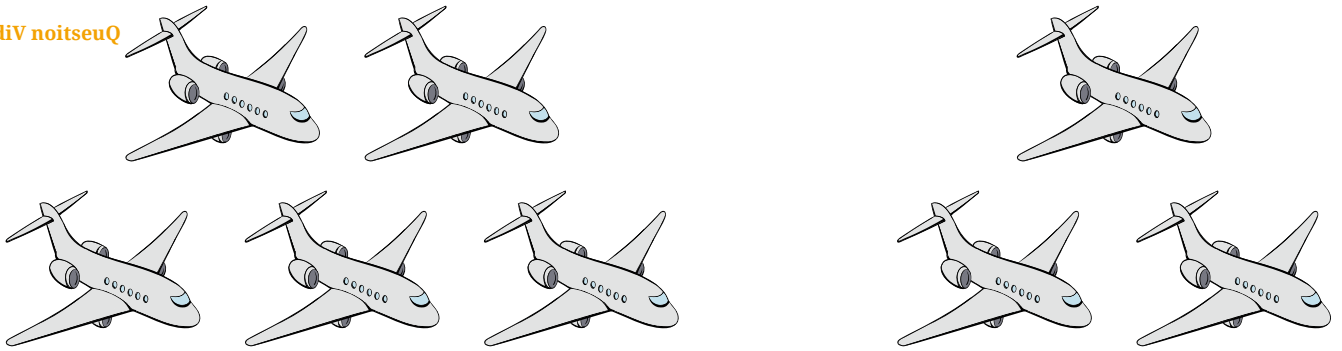
ب ٢

ج ٧



oediV noitseuQ

س٣: شاهدت في الصباح ٣ طائرات. في المساء، شاهدت ٥ طائرات إضافية.



أوجد المجموع الذي تعلم منه إجمالي عدد الطائرات التي شاهدتها.

أ ٥ + ٣


ب ٥ + ٥

ج ٣ + ٣


س٤: أوجد الصورة المُطابِقة لما يأتي:

$$٥ + ٤$$


أ



ب



ج



د

