



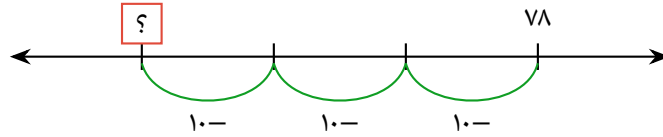
ملف تدريبي: طرح العشرات باستخدام خط الأعداد

في هذا الملف التدريبي، سوف نتدرَّب على تمثيل القفزات بمقدار عشرة على خط الأعداد لطرح أعداد العشرات من الأعداد المكوَّنة من رقمين.



oediV noitseuQ

س١: اطرح ٠٣ من ٨٧. استخدم خط الأعداد لمساعدتك.

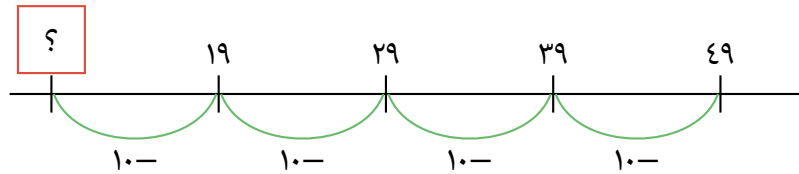


أ ٥٧

ب ٨٤

ج ٨٠١

س٢: أوجد العدد المجهول.

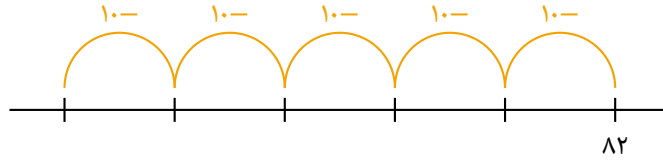


أ ٨١

ب ٩

ج ٠٩

س٣: تُجرِي سارة عملية طرح على خط الأعداد.



◀ اختر العملية الحسابية التي تُجريها.

أ $٥٠ - ٨٢$

ب $٥ - ٨٢$

ج $٥٥ - ٨٢$

◀ ما الإجابة؟

أ ٢٣

ب ٧٧

ج ٧٢