



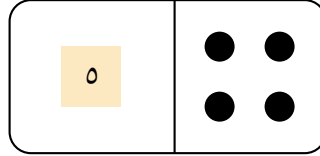
# ملف تدريبي: الجمع حتى ١٠ عن طريق العدّ تصاعدياً

في هذا الملف التدريبي، سوف نتدرّب على الجمع حتى ١٠ عن طريق العدّ من العدد الأكبر.



oediV noitseuQ

س١: لدينا قطعة دومينو غريبة. النقاط على أحد جانبيها مخفية بشريط لاصق. يوضّح الشريط اللاصق عدد النقاط المخفية تحته.




ما إجمالي عدد النقاط الموجودة على قطعة الدومينو؟

- أ ٨
- ب ٩
- ج ٤

س٢: وضعت منى ٨ لُعبات في دلوها، ثم أضافت لُعبتين أُخرَيَيْن. ما عدد اللُعبات لديها الآن؟



+

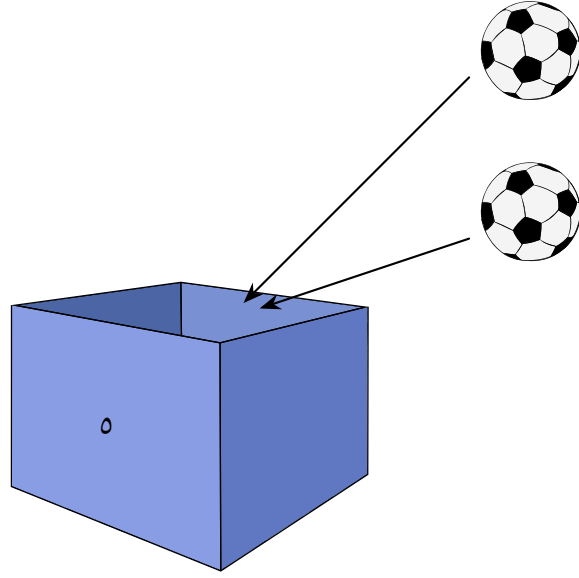


- ٠١ أ
- ٦ ب
- ٧ ج
- ٩ د
- ٨ هـ



oediV noitseuQ

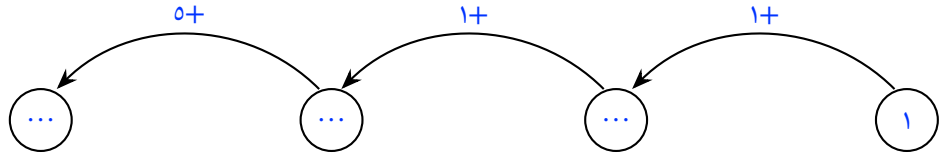
س٣: توجد ٥ كرات قدم في الصندوق. أريد أن أضع كرتين إضافيتين في الصندوق.



ابدأ العد من ٥ لإيجاد عدد الكرات الموجودة في الصندوق.

- ٥ أ
- ٩ ب
- ٧ ج
- ٨ د
- ٦ هـ

س٤: أكمل القيم المفقودة.



أ ٨،٣،٢

ب ٧،٢،٢

ج ٨،٢،٢

د ٧،٣،٢

هـ ٦،٣،٢