




ملف تدريبي: أشكال التوزيع

في هذا الملف التدريبي، سوف نتدرَّب على تحديد إذا كان تمثيل البيانات متماثلًا، أو ملتويًا جهة اليمين، أو ملتويًا جهة اليسار.



س١: ما نوع الالتواء في المخطط الصندوقي الموضح؟

oediV noitseuQ



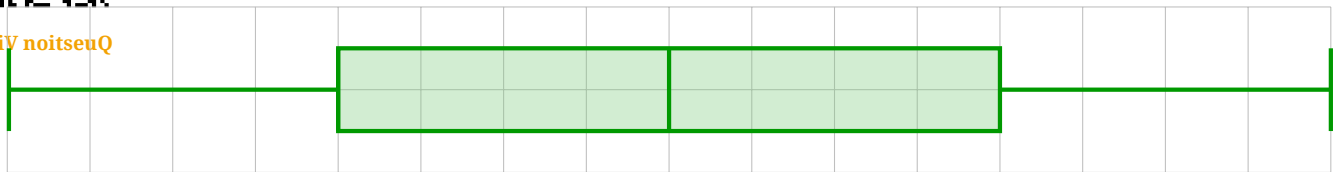
أ التواء سالب

ب التواء موجب



س٢: صف شكل التوزيع الموضح.

oediV noitseuQ

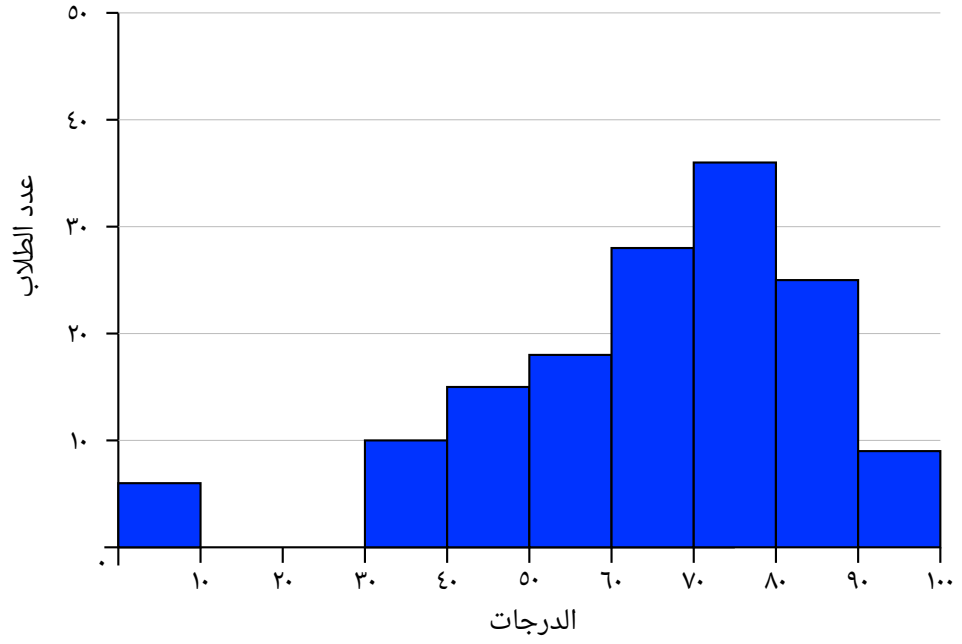


أ ملتوٍ إلى اليسار

ب ملتوٍ إلى اليمين

ج متماثل

س٣: أيُّ من التالي هو وصف دقيق للتوزيع التالي؟



أ التوزيع به فرق من ٠٥ إلى ٠٧

ب التوزيع متماثل

ج التوزيع ملتوٍ لليساار

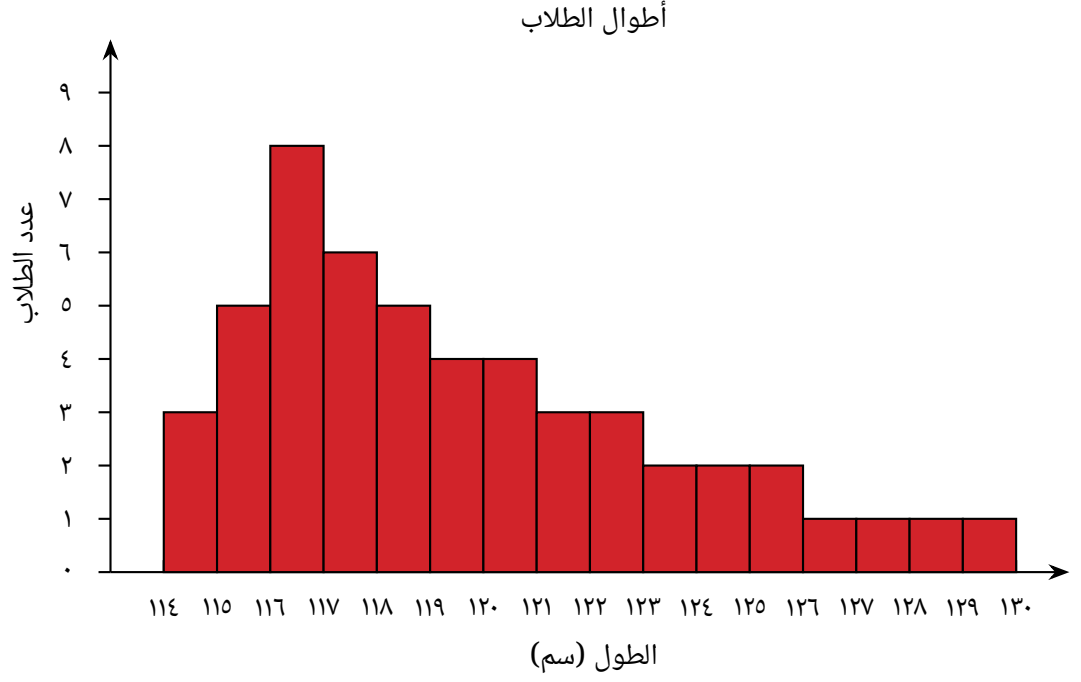
د الوسط يساوي ٠٠١

ه التوزيع ملتوٍ لليمين



oediV noitseuQ

س٤: حدّد هل البيانات التالية متماثلة أم ملتوية لليمين أم ملتوية لليسار.

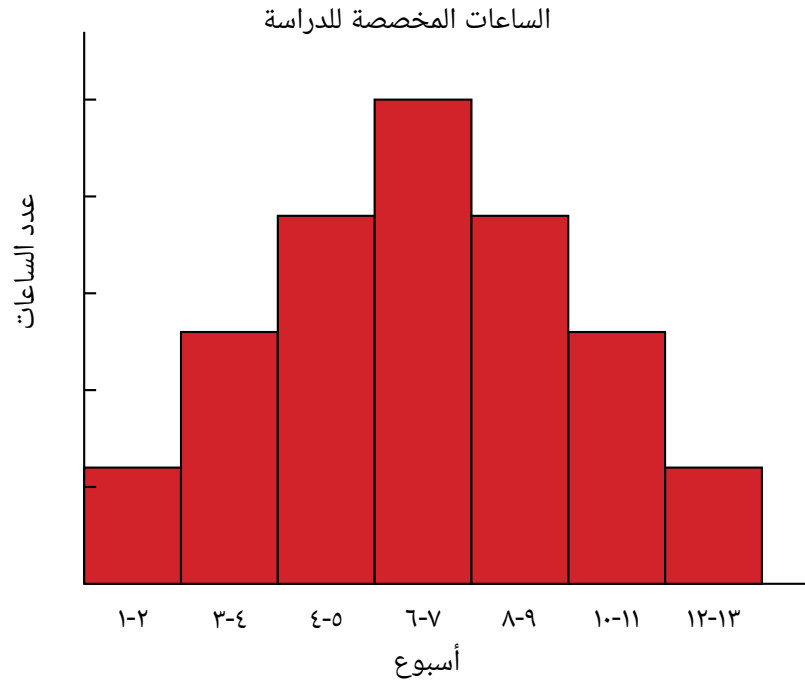


أ متماثلة

ب ملتوية لليسار

ج ملتوية لليمين

س٥: حدد هل توزيع البيانات الموضحة متماثل، أم ملتو لليمين، أم ملتو لليساار.

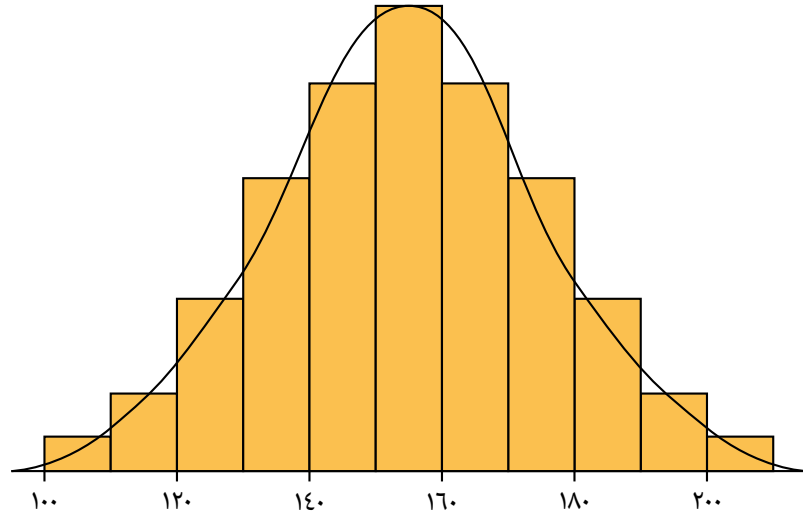


أ ملتو لليساار

ب متماثل

ج ملتو لليمين

س6: حدّد إذا ما كانت البيانات التالية متماثلة أو ملتوية ناحية اليمين أو ملتوية ناحية اليسار.

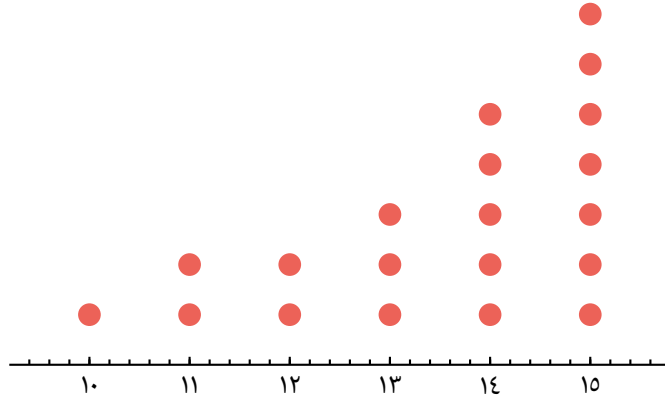


أ متماثلة

ب ملتوية ناحية اليسار

ج ملتوية ناحية اليمين

س٧: حدّد هل البيانات الممثلة متماثلة أم ملتوية لليمين أم ملتوية لليسار.

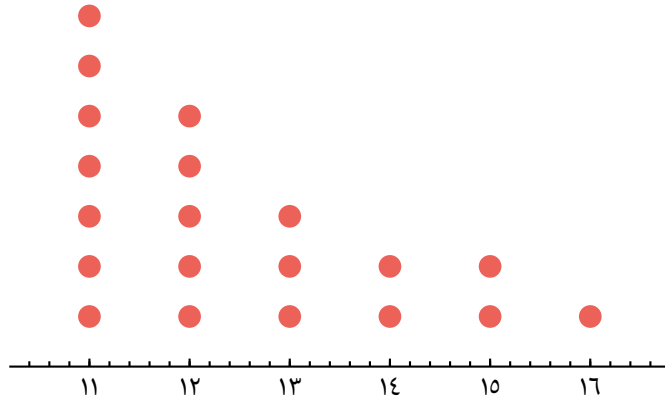


أ ملتوية لليمين

ب ملتوية لليسار

ج متماثلة

س٨: حدّد هل البيانات الممثلة متماثلة أم ملتوية لليمين أم ملتوية لليسار.

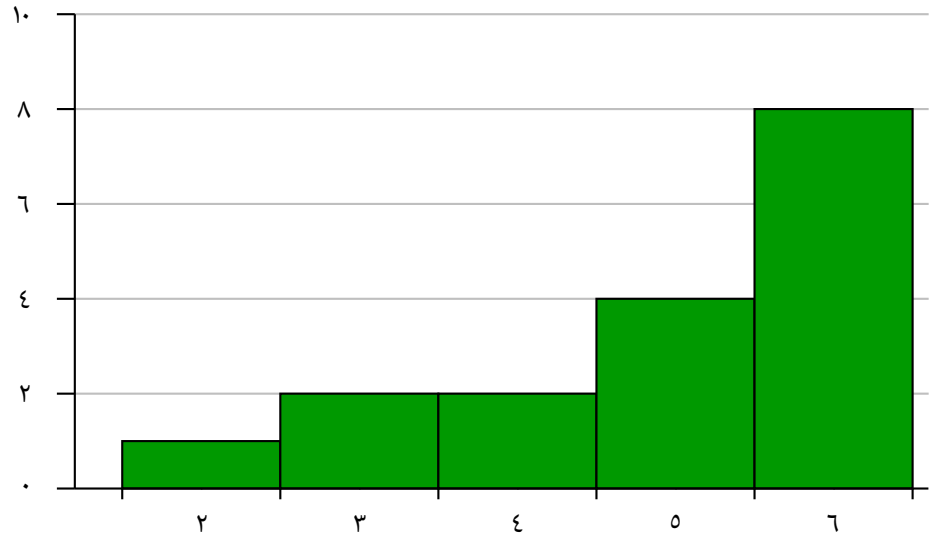


أ متماثلة

ب ملتوية لليمين

ج ملتوية لليسار

س٩: حدّد هل البيانات التالية بها تماثل، أم ملتوية لليمين أم ملتوية لليسار.

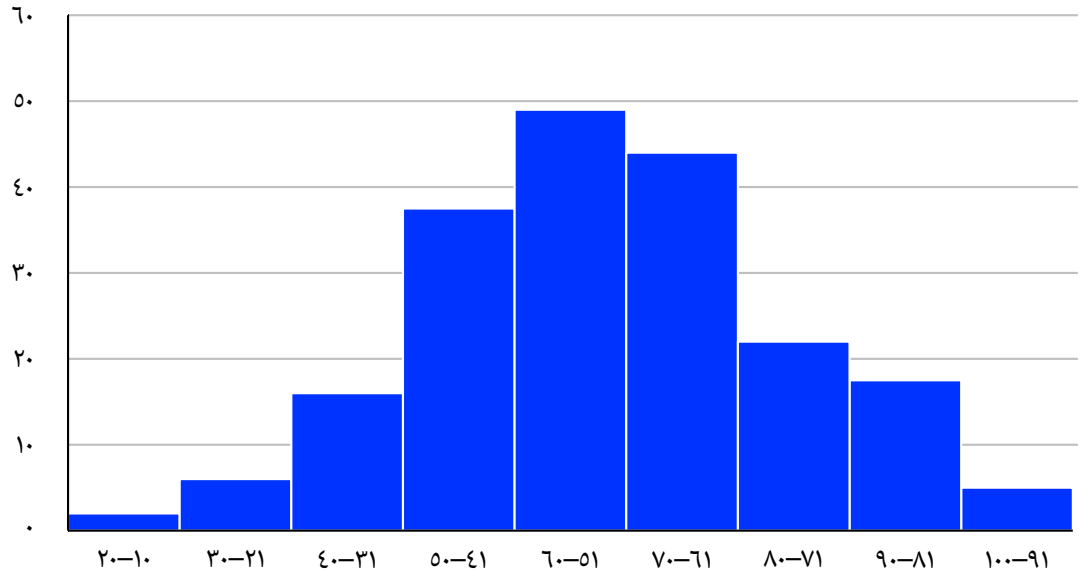


أ ملتوية لليسار

ب ملتوية لليمين

ج تماثل

س١٠: حدد هل توزيع البيانات الموضحة متماثل، أم ملتو لليمين، أم ملتو لليسار.

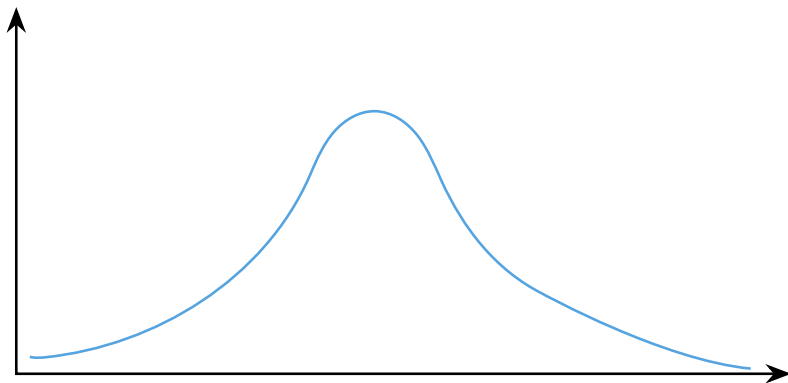


أ ملتو لليمين

ب ملتو لليسار

ج متماثل

س١١: انظر التوزيع الموضح.



◀ أيُّ من المصطلحات التالية يمثِّل الوصف الأفضل لشكل التوزيع الموضح؟

أ ملتوٍ جهة اليسار.

ب متماثل.

ج ملتوٍ جهة اليمين.

◀ أيُّ من العبارات التالية صواب بالنسبة إلى التوزيع الموضح؟

أ قيمة المنوال أقل من قيمة الوسط ولكنها أكبر من قيمة الوسيط.

ب قيم الوسط والوسيط والمنوال متساوية.

ج قيمة الوسيط أقل من قيمة الوسط.

د قيمة المنوال أكبر من قيمة كلٍّ من الوسط والوسيط.

ه قيمة المنوال أصغر من قيمة الوسيط ولكنها أكبر من قيمة الوسط.