



ملف تدريبي: الضرب باعتباره جمعًا مُتكرَّرًا


في هذا الملف التدريبي، سوف نتدرَّب على تمثيل نماذج المجموعات المتساوية باستخدام جملة الجمع المتكرَّر وجملة الضرب.



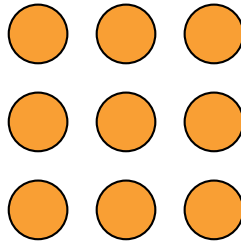
oediV noitseuQ

س١: اختر الشبكة المصفوفة التي توّضح العناصر $3 + 3 + 3 + 3$.

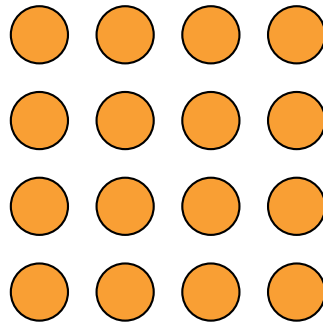
أ




ب



ج



د





oediV noitseuQ

س١: اختر مقدار الضرب الذي يُطابق هذه الشبكة المصفوفة.

أ $3 + 3 + 4$

ب 3×3

ج 3×4

د $3 \times 3 + 4$



oediV noitseuQ

س٢: $6 + 6 = 6 \times \underline{\quad}$.

أ ٨

ب ٢١

ج ٦

د ٢

س٣: اختر التعبير الذي يساوي 6×10 .

أ $10 + 10 + 10 + 10 + 10 + 10$

ب $10 + 10 + 10 + 10 + 10 + 10 + 10$

ج $10 + 10 + 10 + 10 + 10 + 10 + 10 + 10 + 10 + 10$

د $10 + 10 + 10 + 10 + 10$

هـ $10 + 10 + 10 + 10 + 10 + 10 + 10 + 10$

س٤: املأ الفراغ فيما يلي: $9 + 9 = _ \times 9$.

- أ ١١
ب ١
ج ٣
د ٢
هـ ٩

س٥: $7 \times 8 = \dots + \dots + \dots + \dots + \dots + \dots + \dots + \dots$.

- أ $8 + 8 + 7 + 7 + 7 + 7 + 7$
ب $7 + 7 + 7 + 7 + 7 + 7 + 7$
ج $8 + 8 + 8 + 8 + 8 + 8 + 8$
د $7 + 8 + 8 + 8 + 8 + 8 + 8$

س٦: يوجد ٤ وحوش.

كل وحش له قرنان. ما مجموع القرون؟

$$\boxed{2} + \boxed{2} + \boxed{2} + \boxed{2} = \boxed{?}$$

- أ ٨
ب ٦
ج ٠١

◀ كل وحش له ٥ أعين. ما مجموع العيون؟

$$\boxed{٥} + \boxed{٥} + \boxed{٥} + \boxed{٥} = \boxed{؟}$$

أ ٠٢

ب ٥٢

ج ٥١

◀ كل وحش له ٠١ أسنان. ما مجموع الأسنان؟





$$\boxed{} + \boxed{} + \boxed{} + \boxed{} = \boxed{؟}$$

أ ٠٤

ب ٠٣

ج ٠٥

س٧: أوجد الجملتين _ العدديتين اللتين تصفان العدد الإجمالي للتفاحات.



أ $3 + 3 + 3 + 3$

ب $3 + 4$

ج 3×4

د $3 + 3 + 4$

س٨: أي مما يلي يساوي 6×2 ؟

أ $2 + 2 + 2 + 2 + 2$

ب $6 + 6$

ج $2 + 2 + 2 + 2 + 2 + 2 + 2$

د $6 + 6 + 6$

هـ 6

س٩: أيُّ من الآتي يساوي $٩ + ٩ + ٩ + ٩ + ٩ + ٩ + ٩$ ؟

أ ٦٩٩٦٩

ب ٩٩٩٦٩

ج $٦ + ٩$

د ٦×٩

س١٠: أكمل: $١٠ + ١٠ + ١٠ + ١٠ + ١٠ + ١٠ + ١٠ = _ \times ١٠$.

أ ٠١

ب ٨

ج ٦

د ٩

ه ٧