




ملف تدريبي: تفكيك الأشكال الثلاثية الأبعاد

في هذا الملف التدريبي، سوف نتدرَّب على تحديد جميع الأشكال الثلاثية الأبعاد المستخدمة في تكوين نموذج معيَّن، وإيجاد نماذج أخرى يمكن عملها باستخدام نفس المجموعة.

س١: كم مكعبًا اسُخدم لتكوين متوازي المستطيلات؟



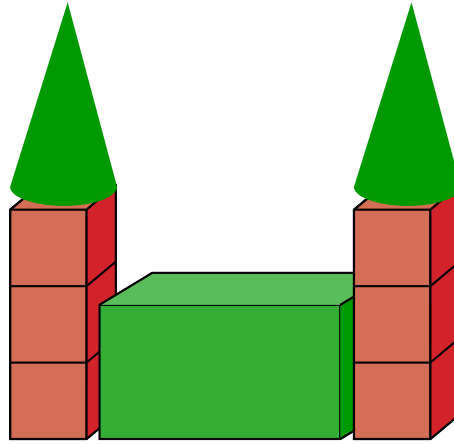
أ ٢

ب ٦

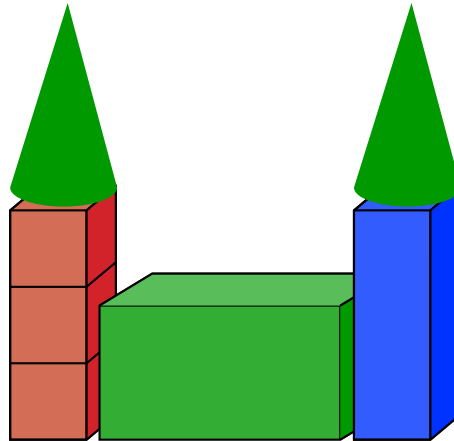
ج ٣

س٢: استخدم فارس وياسمين أشكالاً لبناء نموذج لمبنى. استخدم فارس مكعبات أقل من ياسمين. أيهما صورة ياسمين؟

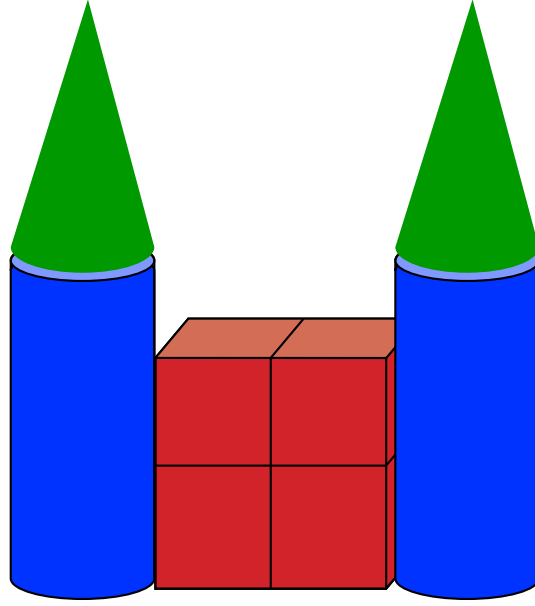
أ



ب



س٣: كم مخروطًا في الشكل؟



- ٢ أ
- ٤ ب
- ١ ج