



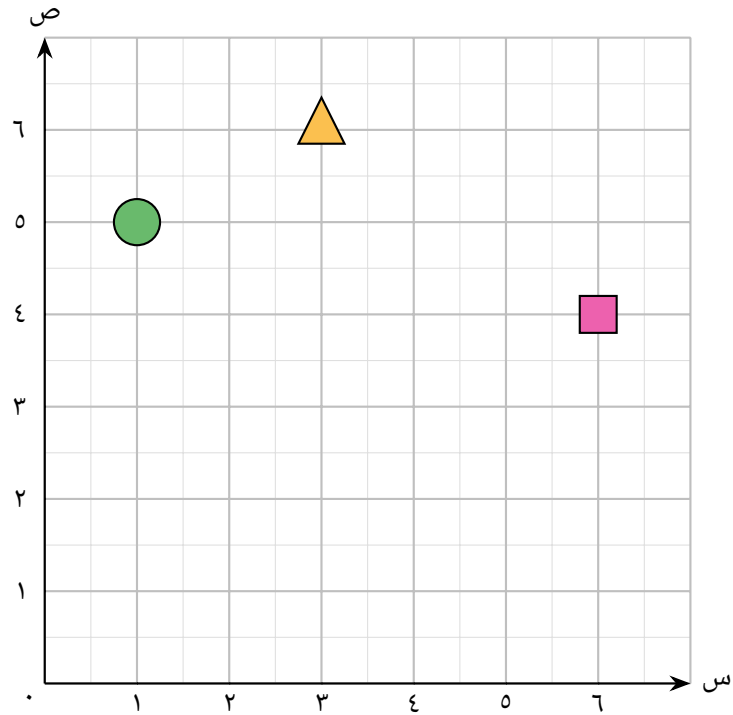
# ملف تدريبي: تحديد موضع العناصر على شبكة إحداثية

في هذا الملف التدريبي، سوف نتدرَّب على تحديد موضع جسم على الشبكة الإحداثية بدءًا من الصفر، وذكر عدد المربعات يمين وأعلى الجسم.

س١: اتبع التعليمات لإيجاد الأشكال.



oediV noitseuQ



◀ ابدأ من ٠. انتقل بمقدار ١ لليمين. انتقل بمقدار ٥ لأعلى.

أ



ب



ج



◀ ابدأ من ٠. انتقل بمقدار ٦ لليمين. انتقل بمقدار ٤ لأعلى.

أ



ب



ج



◀ ابدأ من ٠. انتقل بمقدار ٣ لليمين. انتقل بمقدار ٦ لأعلى.

أ



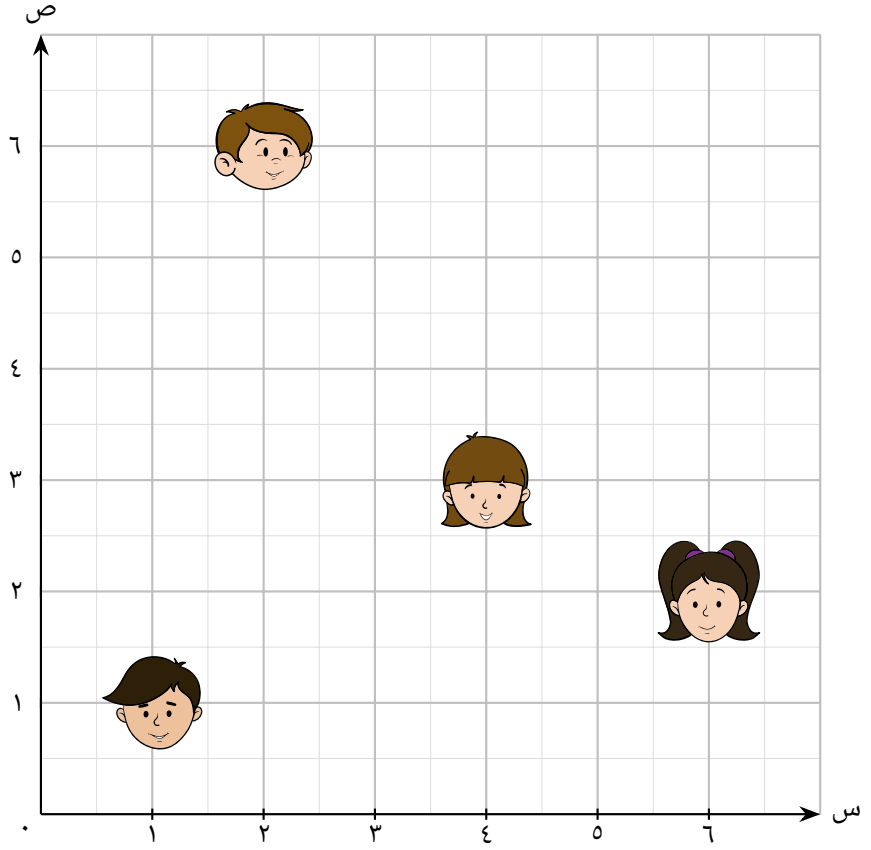
ب



ج




س٢: سالي تبحت عن أصدقائها، وتبدأ من ٠.



إذا انتقلت بمقدار ١ ← و١ ↑، فمن تجد؟

أ




ب



ج




د



إذا انتقلت بمقدار ٤ ← و ٣ ↑، فمن تجد؟

أ




ب



ج



د



إذا انتقلت بمقدار ٦ ← و ٢ ↑، فمن تجد؟

أ



ب



ج



د

