



ملف تدريبي: جمع وطرح الوقت

في هذا الملف التدريبي، سوف نتدرَّب على قياس الوقت بالساعات والدقائق والثواني باستخدام الجمع والطرح.



oediV noitseuQ

س١: أوجد الفرق بين ١٠ ساعات، ٢٩ دقيقة، ٨ ثوانٍ و٦ ساعات، ٢٠ دقيقة، ٣٠ ثانية.

أ ٤ ساعات، ٢٩ دقيقة، ٨ ثوانٍ

ب ٤ ساعات، ٨ دقائق، ٣٨ ثانية

ج ١٦ ساعة

د ٤ ساعات

هـ ٤ ساعات، ٢٠ دقيقة، ٣٠ ثانية



س٢: يوضِّح الجدول الآتي الوقت الذي يقضيه عادل في أنشطته الصباحية. أوجد إجمالي الوقت الذي يستغرقه عادل من استعداده حتى يصل عمله.

النشاط	الاستعداد في الصباح	السير إلى محطة الحافلة	ركوب الحافلة إلى العمل	السير من محطة الحافلة إلى العمل
الوقت	٣٢ دقيقة	٢٨ دقيقة	٥٥ دقيقة	٩ دقائق

أ ٢ ساعات و٩ دقائق

ب ٢ ساعات

ج ٢ ساعات و٤ دقائق

د ٢ ساعات و٥٥ دقائق

هـ ٣ ساعات



oediV noitseuQ

س٣: عبّر بالساعات والدقائق والثواني عن وقت انتهاء أحد الفائزين بسباق الجري، والذي أنهى السباق في ٨٥٦٩ ثانية.

- أ ٤ س ٤٥ د، ١٩ ث
- ب ٤ س ٢٢ د، ٢٦ ث
- ج ٢ س ٢٢ د، ٤٩ ث
- د ٧ س ٢ د، ٤٩ ث
- هـ ٢ س ٤٥ د، ١٩ ث

س٤: اكتب القيمة المجهولة: يوجد — ثانية في $\frac{2}{3}$ يوم.

- أ ٠٦٩
- ب ٠٠٦١٧٥
- ج ٠٠٤١٢
- د ٠٠٨١٨٢
- هـ ٠٠٠٣٤٤١

س٥: كم دقيقة في ٧٦ ساعة ونصف؟

- أ ٤٥٦٠ د
- ب ٧٦٠٠ د
- ج ٤٥٩٠ د
- د ٢٢٨٠ د

س٦: أكمل: $1\frac{1}{4}$ ساعة + ٢٥ دقيقة = ___ ثانية.

أ ٥٧٥٦٦

ب ٥٧٠٦٠٩

ج ٠٠٣٦٣

د ٠٠٠٦٦

هـ ٠٠٤٦٢

س٧: أكمل بالقيمة المجهولة: $\frac{1}{2}$ ساعة + $\frac{1}{3}$ ساعة + $\frac{1}{4}$ ساعة = ___ دقيقة.

أ ٥٦

ب ٠٧

ج ٥٧

د ٠٥

س٨: أكمل بالقيمة المجهولة: ٥٩ ساعة + ٣٠٠ دقيقة = ___ يوم.

أ $1\frac{1}{15}$

ب $2\frac{2}{3}$

ج $1\frac{1}{3}$

د $5\frac{1}{3}$

هـ ٦٣٥٦٦

س٩: أكمل: ١٩٠ دقيقة و ٣٠٠ ثانية تساوي — ساعة.

أ $6\frac{1}{2}$

ب $3\frac{1}{4}$

ج $8\frac{1}{8}$

د $1\frac{5}{8}$

هـ ٠٠٧١١١

س١٠: أكمل: $3\frac{3}{4}$ أيام + ٢٤٠ دقيقة = — ساعة.

أ ٩٤

ب ٩٢٢

ج ٠٣١

د ٤٩

هـ ٠٣٣

س١١: $1\frac{1}{4}$ يوم + ٨ دقائق = ... دقيقة.

أ ٠٨٢٢٢

ب ٠٨٩٢٤

ج ٢٩٩٢٢

د ٥٩٥٢٢١

هـ ٠١٥

س٢١: كم دقيقة في ١١ ساعة و٤٣ دقيقة؟

أ ٤١١

ب ٣٠٧

ج ٤٥

د ٧٠٣

هـ ٠٦٦

س٣١: كم ساعة في ٤٩ يومًا وساعتين؟

أ ٦٧١٢٢

ب ٠٩٥

ج ٥٤٣

د ١٥

هـ ٨٧١٢٢

س٤١: يعرض الجدول الترتيب النهائي لسباق التزلج على الجليد للنساء في الأولمبياد الشتوية لعام ٢٠٠٢. المدد الزمنية مسجلة لأقرب جزء من مائة.

الدولة	فنلندا	الولايات المتحدة	السويد
المدة	٦٨,٩٠:٢	٩١,٩٠:٢	٣٣,٠١:٢

ما الدولتان اللتان بينهما أكبر فرق في المدة الزمنية؟

أ الولايات المتحدة و فنلندا

ب الولايات المتحدة والسويد

ج فنلندا والسويد

س٥١: ذهبت سالي إلى مكان انتظار السيارات في تمام الساعة ٥٢:٣ مساءً، وأوقفت سيارتها في تمام الساعة ٧٣:٣ مساءً. أوجد الوقت الذي استغرقته لإيجاد منطقة انتظار فارغة.

أ ٠١ دقائق

ب ٤١ دقيقة

ج ٥٢ دقيقة

د ٢١ دقيقة

س٦١: بدأ ماجد أداء واجب الرياضيات في الساعة ٩٠:١١ مساءً وقضى ٨٥ دقيقة في أدائه. ما الوقت الذي انتهى فيه من أداء واجبه؟

أ ٧٠:٢١ مساءً

ب ٧٦:١١ مساءً

ج ٧٥:١١ صباحًا

د ٧٠:٢١ صباحًا

س٧١: يستيقظ أمير في الساعة ٢١:٦ صباحًا ويستغرق ٠٧ دقيقة ليستعد للذهاب إلى المدرسة. في أي وقت يغادر المنزل؟

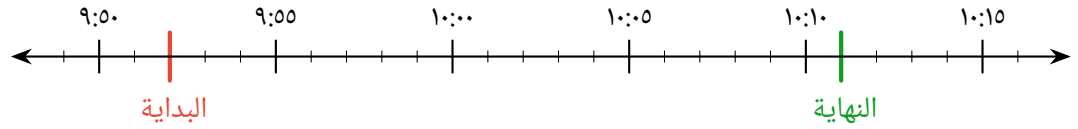
أ ٢١:١ مساءً

ب ٢٢:٧ صباحًا

ج ٢٨:٦ صباحًا

د ٩١:٦ صباحًا

س٨١: يوضّح خط الأعداد الزمن الذي اتصل فيه آدم بصديقه على هاتفه المحمول وزمن نهاية المكالمة. أوجد مدة المكالمة.



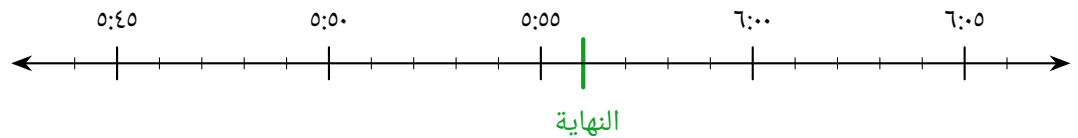
أ ٩١ دقيقة

ب ٨١ دقيقة

ج ٢٢ دقيقة

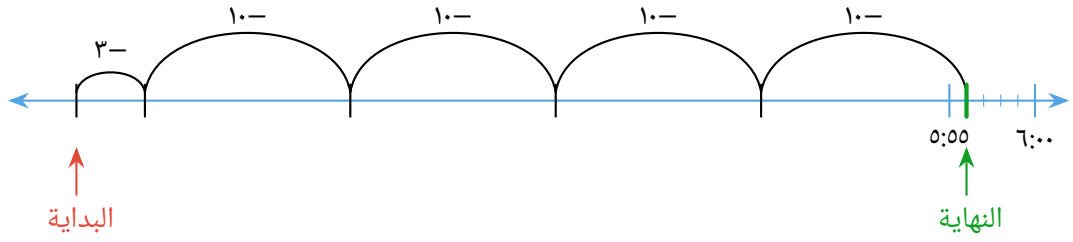
د ٧١ دقيقة

س٩١: يوضّح خط الأعداد الزمن الذي بدأ فيه شادي العمل على سيارته. قضى شادي ٣٤ دقيقة في العمل على سيارته.

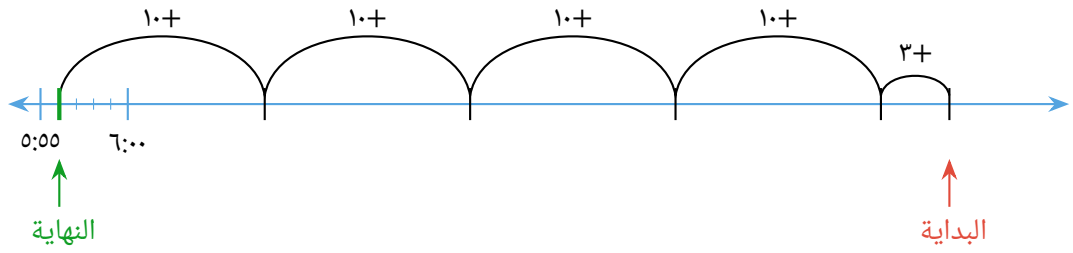


◀ أيُّ ممَّا يلي يوضِّح طريقة واحدة لإيجاد الزمن الذي بدأ فيه؟

أ



ب



◀ ما الزمن الذي بدأ فيه العمل على سيارته؟

أ ٣٤:٥

ب ٣١:٥

ج ٦٥:٥

د ٩٣:٦