



ملف تدريبي: قراءة الوقت بالربع ساعة

في هذا الملف التدريبي، سوف نتدرَّب على قراءة الوقت على ساعة العقارب، وتسجيل الوقت لأقرب ربع ساعة، بالصورتين اللفظية والرقمية.



oediV noitseuQ

س١: أيُّ ساعة توَّصَّح توقيت الساعة الواحدة إلا الربع؟

أ

١٢:٤٥

ب

١:١٥

ج

١٢:٣٠

د

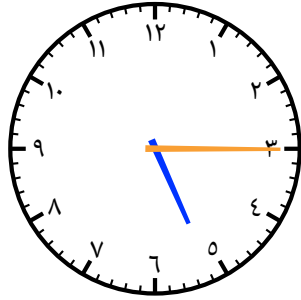
١:٤٥

هـ

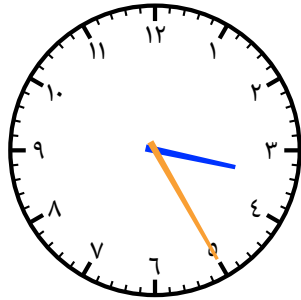
١٢:١٥

س٢: أيُّ ساعة توَّضَّح وقت الخامسة والربع؟

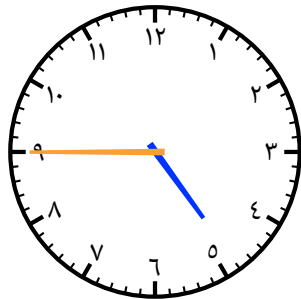
أ



ب



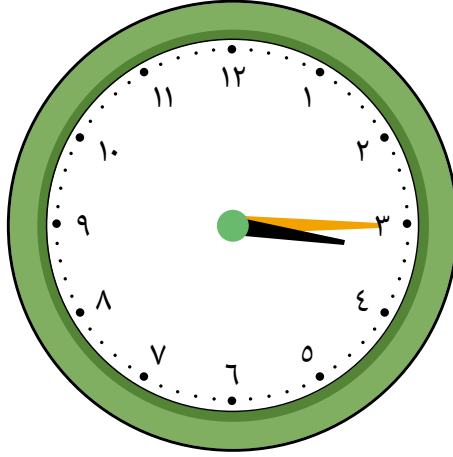
ج



د



س٣: ما الساعة الآن؟ أوجد العدد المجهول.



الساعة الآن تجاوزت — بربع ساعة.

- أ ٥
ب ٤
ج ٣
د ٢