



ملف تدريبي: المقارنة بين الأعداد حتى ١٠ باستخدام القيمة المكانية

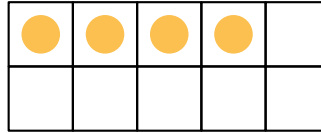
في هذا الملف التدريبي، سوف نتدرَّب على المقارنة بين مجموعة من العناصر المرَّتبة في مجموعة من عشرة عناصر وبعض العناصر المتبقية.

س١: يستخدم شادي لوحات العشرة لمساعدته على المقارنة بين الأعداد.

ما الأصغر: ٤ أم ٧؟

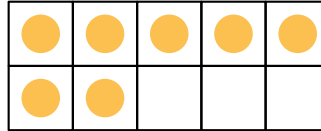
أ

٤



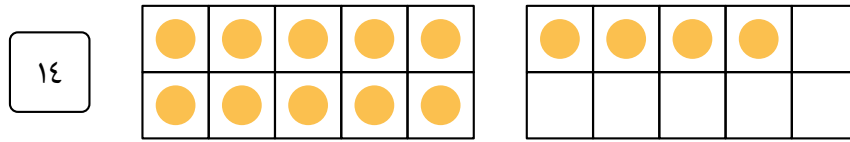
ب

٧

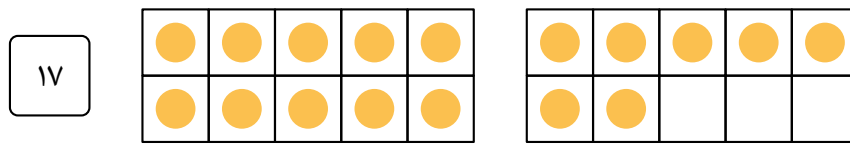


ما الأصغر: ٤١ أم ٧١؟

أ



ب



اختر الرمز الصحيح للمقارنة بين العددين.



- > أ
- < ب
- = ج